


nombre _____

curso _____



fecha _____

PAUTA ACTIVIDADES: FRACCIONES IMPROPIAS Y NÚMEROS MIXTOS


1. Escriba la fracción representada en las siguientes imágenes.



$$1\frac{7}{10}$$



$$1\frac{3}{8}$$

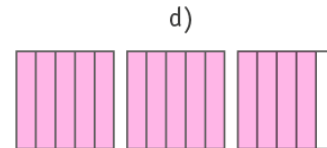
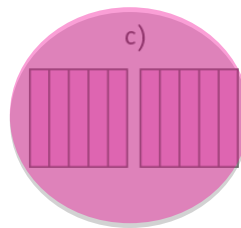
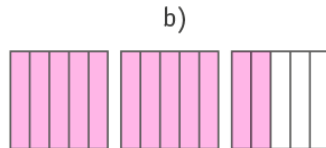
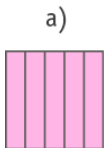


$$1\frac{4}{6}$$

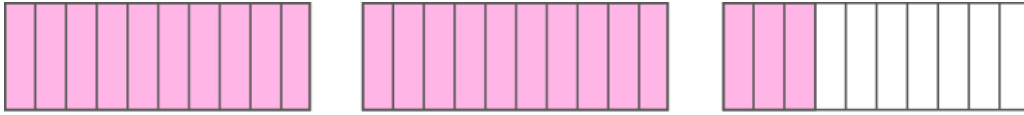


$$2\frac{2}{3}$$

2. ¿En cuál de estas figuras está representada la fracción $\frac{10}{5}$?

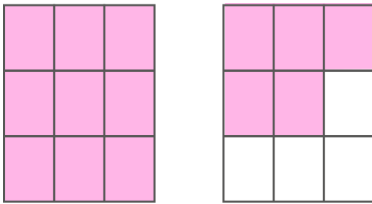


3. Escriba la fracción impropia representada con las siguientes imágenes.




$$2\frac{2}{3}$$

4. En la siguiente imagen represente la fracción $1\frac{5}{9}$



5. En la siguiente imagen represente la fracción $2\frac{3}{8}$



6. Complete la siguiente recta numérica escribiendo las fracciones o números mixtos que faltan:

