


nombre \_\_\_\_\_

curso \_\_\_\_\_

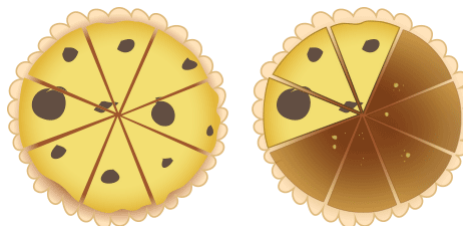
fecha \_\_\_\_\_

**PAUTA ACTIVIDADES: FRACCIONES IMPROPIAS Y NÚMEROS MIXTOS**


1. Escriba la fracción representada en las siguientes imágenes.



\_\_\_\_\_



\_\_\_\_\_

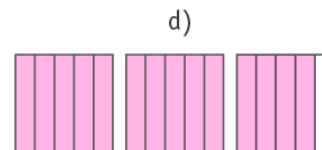
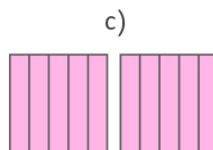
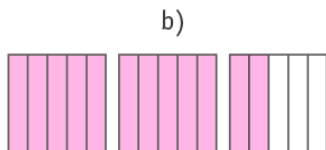
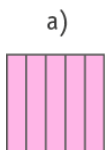


\_\_\_\_\_

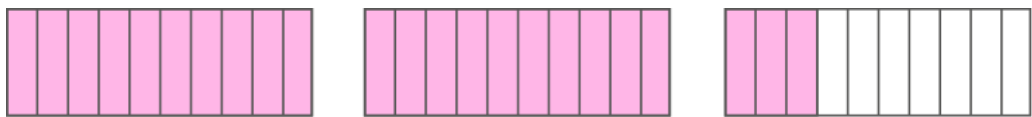


\_\_\_\_\_

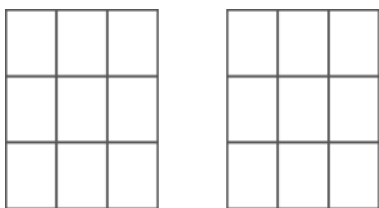
2. ¿En cuál de estas figuras está representada la fracción  $\frac{10}{5}$ ?



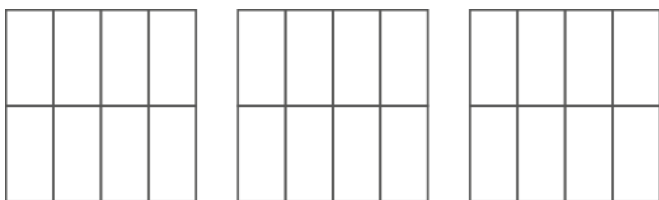
3. Escriba la fracción impropia representada con las siguientes imágenes.



4. En la siguiente imagen represente la fracción  $1\frac{5}{9}$



5. En la siguiente imagen represente la fracción  $2\frac{3}{8}$



6. Complete la siguiente recta numérica escribiendo las fracciones o números mixtos que faltan:

