

PAUTA ACTIVIDADES: RECOLECTAR Y COMPARAR INFORMACIÓN

1. Los materiales de trabajo de los alumnos en un 1° Básico son los siguientes:



Según dicha información, complete las siguientes oraciones.




a) En el curso hay 8 lápices.

b) Hay 7 sacapuntas en el curso.

c) En total hay 3 gomas.

d) Hay 1 lápiz más que un sacapuntas.

2. Ahora usted, con la ayuda de su profesor(a) recolecte información de su curso y complete la siguiente tabla. Haga un / por cada cantidad que encuentre.

 Sacapuntas	
 Lápiz grafito	
 Goma	

Según ello, responda:


a) La cantidad de lápiz grafito es _____.

b) La cantidad de goma es _____.

c) El total de sacapuntas es de _____.

d) ¿Cuántos más sacapuntas que gomas hay en el curso? _____

Observación al docente: Se puede escribir esta misma tabla en la pizarra y que cada alumno vaya anotando en ella la cantidad de materiales que tienen. Es importante notar que no importa si uno de ellos tiene más o no tiene, porque se contará lo que tiene como curso.

3. El siguiente pictograma representa la cantidad de mascotas que les gusta al 1° básico B. Si cada  representa un alumno, responde:



- a) ¿Qué mascotas es la que más les gusta a los alumnos del 1° B?

Perro

- b) Los alumnos que prefieren gatos y perros son más que las que prefieren conejos.

¿Por qué?

Si porque los que prefieren gatos y perros son 7 y los que prefieren conejos son solo 2