


Actividades

1

Yo soy Daniel.
De aquí no me muevo.



Si Daniel está en el lugar 61 de la cinta numerada y no se mueve, ¿dónde queda?

Respuesta: Daniel queda en el lugar

¿Cuántos lugares avanzó o retrocedió?

Respuesta:


Completa las operaciones correspondientes:

$$61 + \dots = \dots$$

$$61 - \dots = \dots$$

2


Completa: $44 + \dots = 44$



¿Qué representa la operación anterior en la cinta numerada?

.....

Completa: $44 - \dots = 44$



¿Qué representa la operación anterior en la cinta numerada?

.....

3

Completa las operaciones siguientes:

$$48 + \dots = 48$$

$$25 - \dots = 25$$

$$36 + \dots = 36$$

$$67 - \dots = 67$$

$$91 + \dots = 91$$

$$84 - \dots = 84$$