




### ACTIVIDADES: BALANZAS

1. Si cada  = 1 unidad, complete en el recuadro la cantidad de unidades que equivale un tomate y una zanahoria respectivamente:


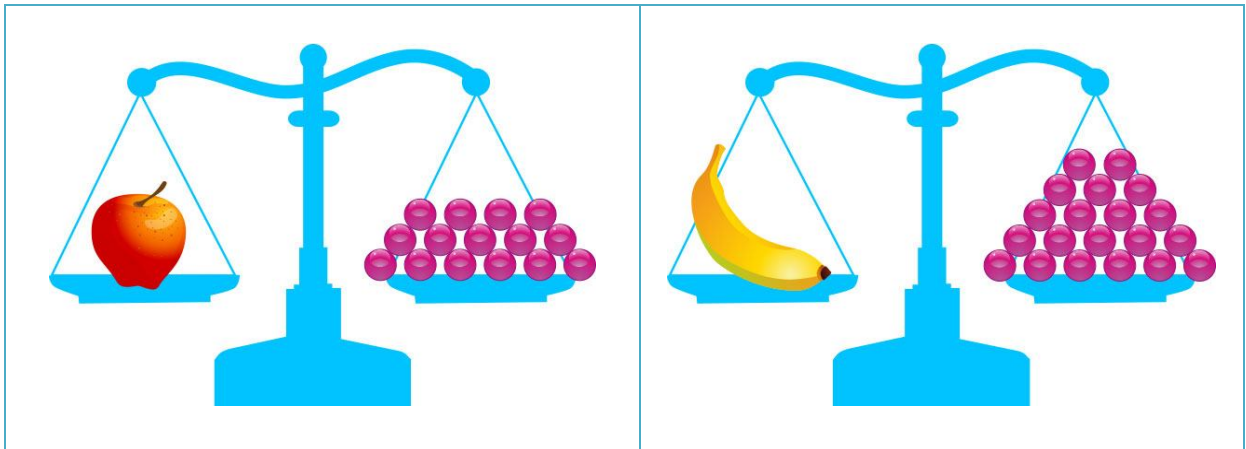


Un tomate equivale a \_\_\_\_\_ unidades



Una zanahoria equivale a \_\_\_\_\_ unidades


2. Observe los dibujos y luego complete cada oración.



- a) Una manzana equivale a \_\_\_\_\_ bolitas.
- b) Un plátano equivale a \_\_\_\_\_ bolitas.
- c) \_\_\_\_\_ bolitas equivalen a una naranja.
- d) Una manzana pesa<sup>1</sup> \_\_\_\_\_ bolitas más que una naranja.
- e) Una naranja pesa \_\_\_\_\_ bolitas menos que un plátano.

<sup>1</sup> Aunque lo correcto hablar de "masa" se ha optado por escribir "peso" de acuerdo a las Bases Curriculares y Programas de Estudio del sector de Ciencias Naturales.

3. Observe los dibujos y luego complete cada oración.



- a) Una pelota equivale a \_\_\_\_\_ bolitas.
- b) Un sombrero equivale a \_\_\_\_\_ bolitas.
- c) \_\_\_\_\_ bolitas equivalen a una flor.
- d) Un sombrero pesa \_\_\_\_\_ bolitas más que una pelota.
- e) Una flor pesa \_\_\_\_\_ bolitas menos que una pelota.