

nombre _____



curso _____

fecha _____


























JUEGO: SUMA DE SÍMBOLOS INSECTOS 1

En la siguiente figura las cifras han sido reemplazadas por símbolos. Cada símbolo representa siempre la misma cifra.

Los números que aparecen al costado de cada línea horizontal y debajo de cada línea vertical, han sido obtenidos por las ADICIONES (sumas) sucesivas de las cifras que componen cada línea.

Los símbolos que aparecen representan cifras del 1 al 5. Si  = 2 y  = 3, ¿puedes descubrir las cifras que esconden los demás símbolos?

 =
  =
  =
  = 4

					→ <input type="text"/> 13
					→ <input type="text"/> 11
					→ <input type="text"/> 13
					→ <input type="text"/> 11
					→ <input type="text"/> 10
↓ <input type="text"/> 13	↓ <input type="text"/> 7	↓ <input type="text"/> 15	↓ <input type="text"/> 14	↓ <input type="text"/> 9	

Elaborado por: Ministerio de Educación, Chile