

nombre \_\_\_\_\_



curso \_\_\_\_\_

fecha \_\_\_\_\_


























### JUEGO: FACTORES ESCONDIDOS EN EL DEPORTE 1

En la siguiente figura las cifras han sido reemplazadas por símbolos. Cada símbolo corresponde siempre a la misma cifra.

Los números que aparecen al costado de cada línea horizontal y debajo de cada línea vertical, han sido obtenidos por sucesivas MULTIPLICACIONES en cada línea, respectivamente.

Los símbolos que aparecen representan cifras del 1 al 5. Si  = 2 y  = 3, ¿puedes descubrir las cifras que esconden los demás símbolos?

 =    
  =    
  =    
  =

|   |   |   |   |  |   |                                  |
|---|---|---|---|--|---|----------------------------------|
|   |   |   |   |   | = | <input type="text" value="48"/>  |
|  |  |  |  |  | = | <input type="text" value="72"/>  |
|  |  |  |  |  | = | <input type="text" value="96"/>  |
|  |  |  |  |  | = | <input type="text" value="24"/>  |
|  |  |  |  |  | = | <input type="text" value="144"/> |
|   |   |   |   |  |   |                                  |
| <input type="text" value="72"/>   | <input type="text" value="12"/>   | <input type="text" value="48"/>   | <input type="text" value="144"/>  | <input type="text" value="192"/>   |   |                                  |

Elaborado por: Ministerio de Educación, Chile