

Actividades

1

A la clase de Educación Física asisten todos estos niños y niñas.




¿Cuántas zapatillas usan entre todos?

Respuesta:

Los niños y niñas usan zapatillas.

2

Marisol va a poner 5 rosas en cada uno de sus floreros.




¿Cuántas rosas necesita Marisol para poner en todos los floreros?

Respuesta:

Marisol necesita rosas.

3



En la dulcería "El Chocolate" envasan los bombones en cajas de 10 bombones cada una.


¿Cuántos chocolates envasaron en las cajas de la figura?

Respuesta:

En las cajas envasaron chocolates.

4

En cada estuche hay 10 lápices.



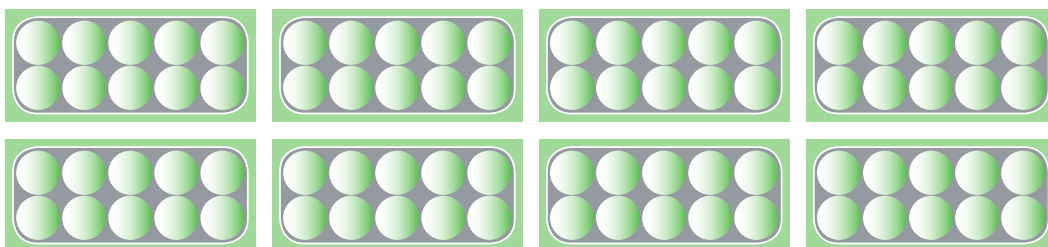
¿Cuántos lápices hay en total?

Respuesta:

Hay lápices.

5

En una tienda venden las pelotas de pimpón en cajas de 10 unidades.




¿Cuántas pelotas hay?

Respuesta:

Hay pelotas.

6

En una tienda de cumpleaños venden gorritos en paquetes de 10 unidades.



¿Cuántos gorritos hay?

Respuesta:

Hay gorritos.