

nombre



curso

fecha


























JUEGO: FACTORES ESCONDIDOS EN EL DEPORTE 1

En la siguiente figura las cifras han sido reemplazadas por símbolos. Cada símbolo corresponde siempre a la misma cifra.

Los números que aparecen al costado de cada línea horizontal y debajo de cada línea vertical, han sido obtenidos por sucesivas MULTIPLICACIONES en cada línea, respectivamente.

Los símbolos que aparecen representan cifras del 1 al 5. Si  = 2 y  = 3, ¿puedes descubrir las cifras que esconden los demás símbolos?

$$\begin{array}{c} \boxed{\text{skier}} = \boxed{2} \quad \boxed{\text{swimmer}} = \boxed{3} \quad \boxed{\text{ballerina}} = \boxed{} \quad \boxed{\text{cyclist}} = \boxed{} \end{array}$$

					=	<input type="text" value="48"/>
					=	<input type="text" value="72"/>
					=	<input type="text" value="96"/>
					=	<input type="text" value="24"/>
					=	<input type="text" value="144"/>
<input type="text" value="72"/>	<input type="text" value="12"/>	<input type="text" value="48"/>	<input type="text" value="144"/>	<input type="text" value="192"/>		

Elaborado por: Ministerio de Educación, Chile