

**PAUTA - ACTIVIDADES: ADICIONES Y SUSTRACCIONES CON NÚMEROS MENORES A 50 (V)**

1. Lea los siguientes problemas, complete los espacios vacíos y escriba la expresión numérica que le ayuda a resolver el problema.

a)

<p>Tengo 22 ranitas</p> 	<p>Tengo 7 ranitas</p> 	<p>Tenemos <u>29</u> ranitas en total.</p> 
---	--	--

Escribe acá la expresión numérica

22 + 7 = 29




b)

<p>Tengo 5 limones.</p> 	<p>Tengo 40 limones.</p> 	<p>Tenemos <u>45</u> limones en total.</p> 
---	--	--

Escribe acá la expresión numérica

5 + 40 = 45

c)

<p>Hay 32 huevos en la cocina</p> 	<p>el gato bota 6 de ellos al suelo</p> 	<p>Quedan <u>26</u> huevos</p> 
---	---	--

Escribe acá la expresión numérica


32 - 6 = 26

d)

<p>Tengo 20 caramelos.</p> 	<p>Agrego 3 caramelos.</p> 	<p>Ahora tengo <u>23</u> caramelos.</p> 
--	--	--

Escribe acá la expresión numérica  $\underline{20} + \underline{3} = \underline{23}$

e)

<p>Tenía 32 vasos.</p> 	<p>Quebré 20 vasos.</p> 	<p>Ahora hay <u>12</u> vasos.</p> 
---	--	---

Escribe acá la expresión numérica  $\underline{32} - \underline{20} = \underline{12}$

f)

<p>Estoy en el piso 12.</p> 	<p>subo 6 pisos.</p> 	<p>Ahora estoy en el piso <u>18</u>.</p> 
---	--	---

Escribe acá la expresión numérica  $\underline{12} + \underline{6} = \underline{18}$

g) Estoy en el piso 18.



bajo 6 pisos.



Ahora estoy en el piso 12.



Escribe acá la expresión numérica

$$\underline{18} \dots - \underline{6} \dots = \underline{12} \dots$$