

PAUTA - ACTIVIDADES: ADICIONES Y SUSTRACCIONES CON NÚMEROS MENORES A 50 (I)


1. Complete los espacios de los siguientes problemas y dibuje donde corresponde.

a)


Tengo **28** calugas




Me comí **12** calugas



Mi mamá me regaló **20**



Ahora tengo **36** calugas. Dibuja



b)

Tengo **18** yogurt.



y compré **10** más.



Mi hermana y yo nos comimos **12**.



Ahora me quedan **16**.



c)

Compré 45 pelotas.



Regalé 35.



Me quedan **10**.



2. Resuelva el siguiente problema. Los niños de primer año del colegio del barrio, organizaron un picnic.



Responda:

- a) Se trasladaron en dos buses. En uno viajaban 17 niños y niñas y en el otro bus 28. ¿Cuántos alumnos fueron en total?

$$17 + 28 =$$

$$17 + 3 + 25 =$$

$$20 + 25 = 45$$

.....Fueron 45 alumnos en total al picnic...

- b) Entre los dos buses había lugar para 50 niños y niñas. ¿Cuántos asientos quedaron vacíos?

$$50 - 45 = 5$$

.....Quedaron 5 asientos sin ocupar.....

3. En mi fiesta de cumpleaños tengo un globo para cada invitado, en total tengo 8 globos, pero antes de comenzar la fiesta se me rompieron 5. Mi mamá fue a comprar más para reponerlos, trajo un paquete con 10 globos.



a) ¿Cuántos globos tengo?

$8 - 5 = 3$ $3 + 10 = 13$Tengo 13 globos en total.....
------------------------------	------------------------------------

b) ¿Cuántos globos me sobrarán?

$13 - 8 = 5$Me sobrarán 5 globos.....
--------------	--------------------------------