



PAUTA: FRACCIÓN MAYOR, MENOR

1. Encierra en un círculo la fracción más grande de cada grupo.




$\frac{2}{6}$	$\frac{3}{8}$	$\frac{1}{8}$	$\frac{3}{8}$	$\frac{1}{2}$	$\frac{1}{5}$	$\frac{1}{4}$	$\frac{1}{3}$
---------------	---------------	---------------	---------------	---------------	---------------	---------------	---------------

2. Encierra en un círculo la fracción más pequeña de cada grupo.



$\frac{3}{6}$	$\frac{3}{8}$	$\frac{2}{8}$	$\frac{3}{6}$	$\frac{1}{2}$	$\frac{3}{4}$	$\frac{2}{4}$	$\frac{1}{3}$
---------------	---------------	---------------	---------------	---------------	---------------	---------------	---------------

3. Coloca las fracciones de menor a mayor:



$\frac{1}{6}$ $\frac{1}{5}$ $\frac{1}{8}$ $\frac{1}{3}$ $\frac{1}{2}$ Respuesta: $\frac{1}{8}$, $\frac{1}{6}$, $\frac{1}{5}$, $\frac{1}{3}$, $\frac{1}{2}$

$\frac{2}{6}$ $\frac{3}{4}$ $\frac{3}{8}$ $\frac{2}{3}$ $\frac{1}{2}$ Respuesta: $\frac{2}{6}$, $\frac{3}{8}$, $\frac{1}{2}$, $\frac{2}{3}$, $\frac{3}{4}$

4. Escribe 5 fracciones ordenadas de menor a mayor.

.....