

nombre _____

curso _____

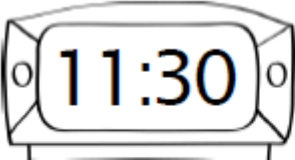
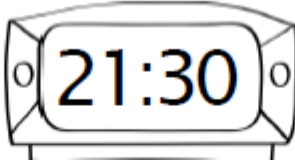
fecha _____

ACTIVIDADES: LEER Y ESCRIBIR HORAS EN RELOJES DIGITALES (I)**Actividad 1:**

Lee y ordena según la hora más temprana y la más tarde. Enumera desde el 1 como la más temprana y así continúa hasta la más tarde.

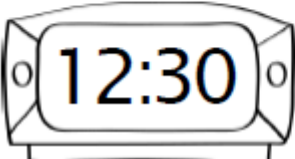
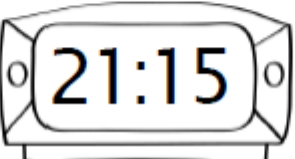
**Actividad 2:**

Observa y escribe el tiempo transcurrido entre las dos horas.

a)  

Respuesta.

_____ horas.

b)  

Respuesta.

_____ horas.

_____ minutos.

Elaborado por: Programa de Educación Rural División de Educación General; Ministerio de Educación.
Módulo didáctico para la enseñanza y el aprendizaje de la asignatura de Matemática en escuelas rurales multigrado.