

nombre _____

curso _____



fecha _____

COMPARAR DECIMALES EN PROBLEMAS



Para cada uno de los siguientes problemas, justifique su respuesta pintando en el dibujo.

1. Alfonso logró una distancia de 1,3 m en su salto y Marcelo logró una distancia de 1,04 m. ¿Quién saltó más?

Alfonso





Marcelo





La persona que saltó más fue: _____

2. Andrea bebió 1 litro de agua en el día, mientras que Josefina 1,2 litros en el mismo día. ¿Quién bebió menos agua?

Andrea




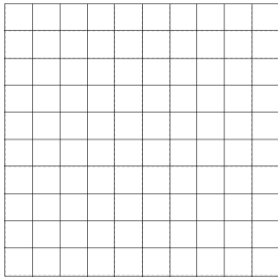
Josefina




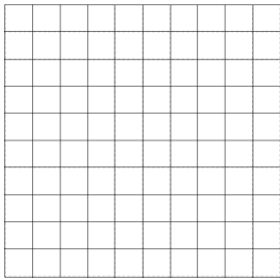
La persona que bebió menos agua fue: _____

3. Rosa compró 1,34 kg de Jamón, 0,25 kg de aceitunas y 1,2 kg de queso.



Jamón



Aceitunas



Queso



El producto que compró menos es _____