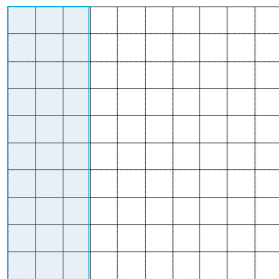



## PAUTA COMPARAR DECIMALES EN PROBLEMAS

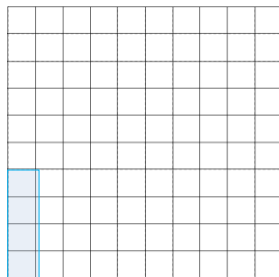

Para cada uno de los siguientes problemas, justifique su respuesta pintando en el dibujo.

1. Alfonso logró una distancia de 1,3 m en su salto y Marcelo logró una distancia de 1,04 m. ¿Quién saltó más?

**Alfonso**





**Marcelo**



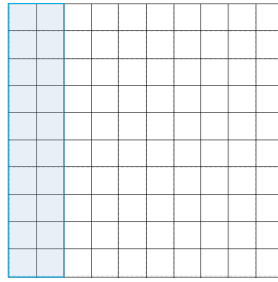

La persona que saltó más fue: Alfonso

2. Andrea bebió 1 litro de agua en el día, mientras que Josefina 1,2 litros en el mismo día. ¿Quién bebió menos agua?

**Andrea**



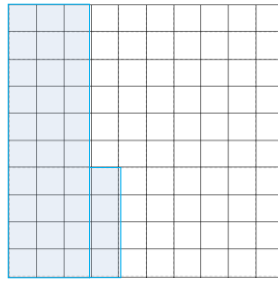

### Josefina




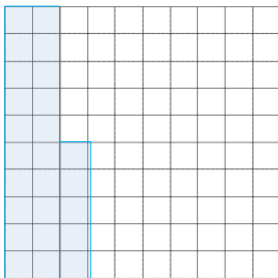
La persona que bebió menos agua fue: Andrea

3. Rosa compró 1,34 kg de Jamón, 0,25 kg de aceitunas y 1,2 kg de queso. ¿Cuál fue el producto que compró menos?

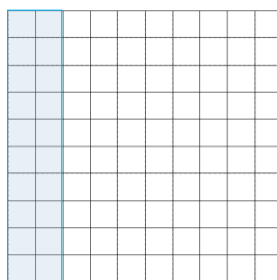

### Jamón



### Aceitunas



### Queso



El producto que compró menos es Aceitunas