





CONTAR DE UNO EN UNO



¿CUANTOS SALTOS DEBE DAR EL CONEJO PARA LLEGAR A LA ZANAHORIA?

0  _____ 

¿CUANTOS SALTOS DEBE DAR LA RANA PARA LLEGAR A LA MOSCA?

0  _____ 

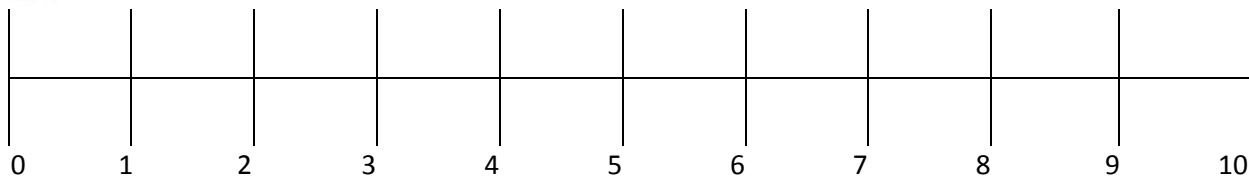
¿CUANTOS SALTOS DEBE DAR EL GRILLO PARA LLEGAR A LA HOJA?

0  _____ 

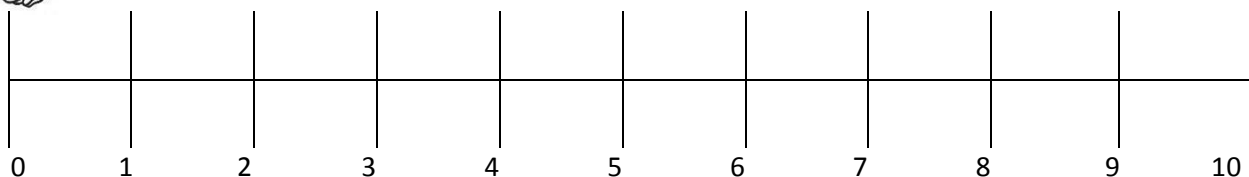
PEGUE ESTA HOJA EN TU CUADERNO

REALICE LOS SALTOS QUE DEBE DAR EL CONEJO, TRACE LOS SALTOS Y PINTE EN LA CUADRICULA.

CINCO



SIETE



NUEVE

