

nombre

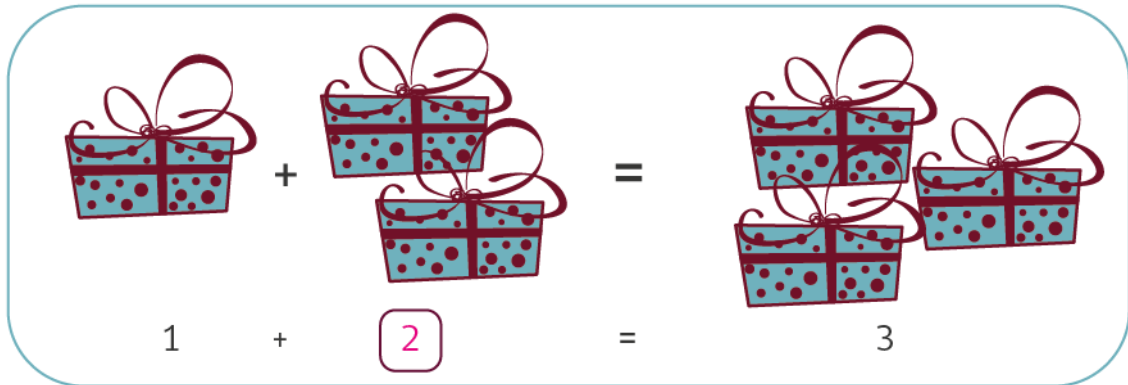
curso

fecha

ACTIVIDADES:
Adiciones con números menores a 10

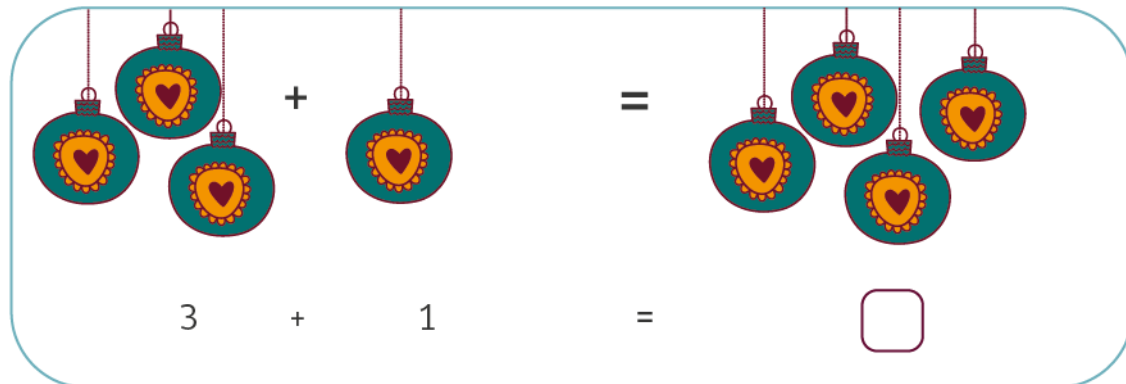
1. Observe el ejemplo y luego resuelva las siguientes adiciones:

a.




1 + 2 = 3

b.



3 + 1 =

c.



4 + = 5

d.



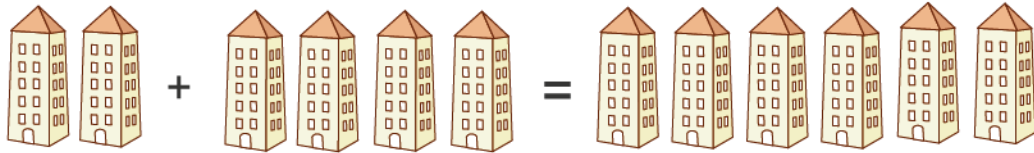
$$2 + \square = 4$$

e.



$$1 + \square = 4$$

f.



$$\square + 4 = 6$$

g.



$$\square + 7 = 10$$

h.

7 + 1 =

i.

6 + = 9

j.

+ 4 = 8

2. Resuelva las siguientes adiciones:

a. $3 + \dots = 7$

b. $2 + \dots = 8$

c. $3 + \dots = 10$

d. $8 + \dots = 10$

e. $\dots + 2 = 5$




f. $\dots + 1 = 3$

g. $\dots + 2 = 6$

h. $\dots + 4 = 9$

3. Observe, dibuje y complete:

a.

Tengo	Agrego	Ahora tengo
		

..... más es igual a

b.

Tengo	Agrego	Ahora tengo
		

..... más es igual a