

nombre _____

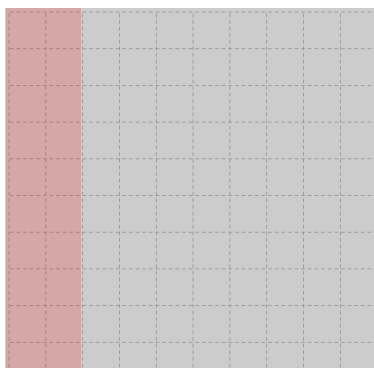
curso _____

fecha _____


ACTIVIDADES: COMPARAR DÉCIMOS Y CENTÉSIMOS

1. Pinte en cada cuadrícula el número que representa, luego diga cuál es mayor. Guíese por el ejemplo.

a)




0,2




0,03

¡Pinté más
en dos
décimos!




Luego, 0,2 es mayor que 0,03

b)




0,1




0,2

Luego, _____ es mayor que _____.

c)




0,07




0,02

Luego, _____ es mayor que _____.

d)



0,45




0,5

Luego, _____ es mayor que _____.

e)




0,2




0,01

Luego, _____ es menor que _____.

f)



0,3



0,03

Luego, _____ es menor que _____.