






PAUTA ACTIVIDADES: LEER E INTERPRETAR DATOS DESDE TABLAS Y PICTOGRAMAS

Actividad 1: Diego realiza una encuesta a sus amigos y les pregunta por sus animales preferidos.

a) ¿A cuántos niños le preguntó?...**24**...

b) ¿Cuántos prefieren al perro?.....**7**....




c) ¿Cuántos prefieren al gato?.....**5**....

d) ¿Cuántos prefieren a la paloma?...**3**...

e) ¿Cuántos prefieren al caballo?.....**5**....

f) ¿Cuántos prefieren al pollo?...**4**.....

Actividad 2: Rocío pregunta a sus amigos por el sabor de helado que más les gusta. Cuenta las marcas para saber la cantidad. Escribe el número total de preferencias.

HELADO	CONTEO	TOTAL
 CHOCOLATE		10
 VAINILLA		7
 FRUTILLA		6
TOTAL		23

Elaborado por: Programa de Educación Rural División de Educación General; Ministerio de Educación.
Módulo didáctico para la enseñanza y el aprendizaje de la asignatura de Matemática en escuelas rurales multigrado.