

nombre \_\_\_\_\_


curso \_\_\_\_\_

fecha \_\_\_\_\_

**ACTIVIDAD: ECUACIONES CON BALANZA**


1. Observe las siguientes balanzas y determine la equivalencia de cada fruta.

a)



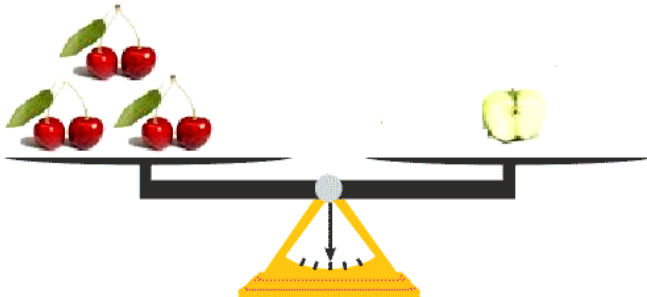
 = \_\_\_\_\_

b)



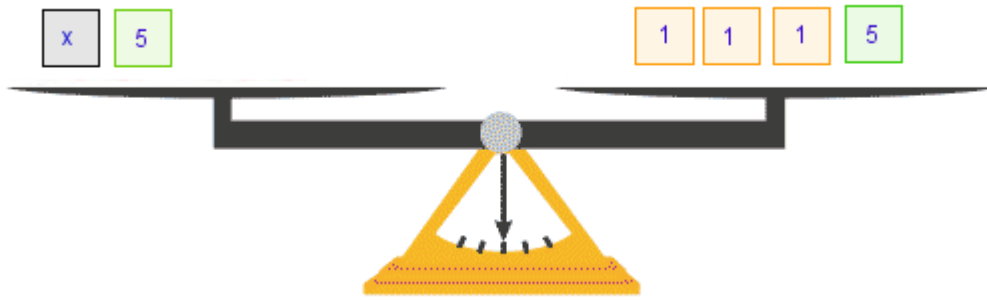
 = \_\_\_\_\_

c)

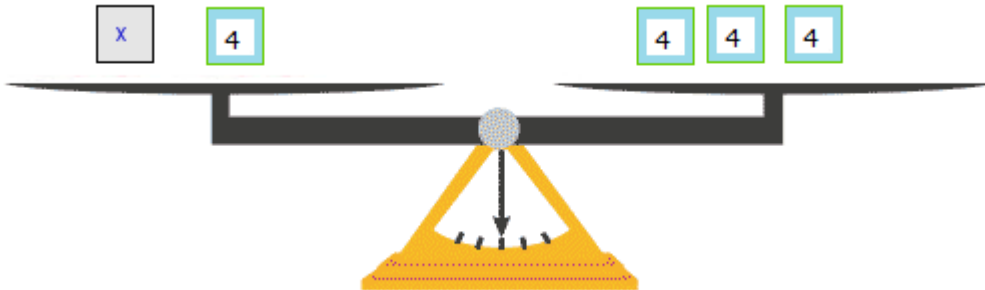


 = \_\_\_\_\_

2. Observe las siguientes balanzas y determine el valor de x



x = \_\_\_\_\_



x = \_\_\_\_\_

3. Resuelva las siguientes ecuaciones

a)  $x + 2 = 4$

b)  $c + 4 = 8$

c)  $p + 1 = 5$