


ACTIVIDADES: ESTIMAR E IDENTIFICAR ÁNGULOS DE MEDIDA 90° O BIEN 45°

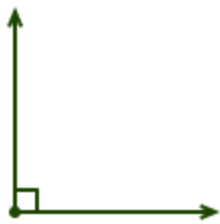
1. Observe la siguiente imagen e identifique con lápiz rojo dos ángulos distintos a la medida de 90° y con lápiz azul cinco iguales a ella.



2. Marque con un ✓ todos los ángulo(s) que midan más de 90°



3. ¿Cuál de los siguientes ángulo miden 90°? Marque con un ✓








4. Complete la siguiente oración con la palabra más, menos o igual.

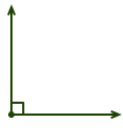


El ángulo de la figura mide _____ de 90° .

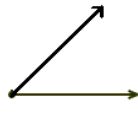
5. Observe los siguientes polígonos y encierre cuál de ellos tienen ángulos que midan 90° .



6. Considerando que :



es un ángulo que mide 90° y



es un ángulo que mide 45°

Estime la medida de los siguientes ángulos, escríbalas en los espacios recuadros

A

B

C

D