

PAUTA ACTIVIDADES
Interpretar información

1. Observe la imagen y responda:
















a) Cuente los adultos, las niñas, los niños y las guaguas y anótelos en la siguiente tabla:

Edad	Número de personas
Guaguas	1
Niñas	5
Niños	4
Adultos	3

Según la tabla, responda:

- b) ¿Cuántas personas hay? Hay 13 personas.....
- c) ¿Hay más niños o niñas? Hay más niñas que niños.....
- d) ¿Hay más guaguas o niños? Hay más niños que guaguas.....

2. Una encuesta realizada en segundo básico sobre la fruta que más les gusta, arrojó los siguientes resultados: **5** niños prefieren la frutilla, a **4** de ellos les gusta la manzana, **7** el plátano y **2** la cereza.
De acuerdo a esa información, complete el siguiente pictograma pintando cada  según la fruta que prefieren.

Fruta que prefieren	Número de niños
	 
	 
	 
	 

Observando el pictograma que completó, responda:

- a) ¿Cuántos niños contestaron la encuesta?18 en total.....
- b) ¿Cuál es la fruta que más les gusta?El plátano.....
- c) ¿A cuántos niños más les gusta el plátano que la frutilla?A 2 niños.....