


PAUTA ACTIVIDADES: HORAS Y MEDIAS HORAS EN RELOJ DIGITAL

1. Encierre en un círculo el reloj que marca cuál las 3 horas en punto.




2. Escriba en palabras la hora que indica cada reloj:

a)  _____ cinco horas _____

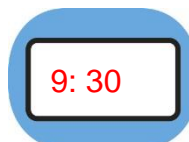
b)  _____ doce y media horas _____

c)  _____ ocho horas _____

d)  _____ nueve y media horas _____

3. Dibuje en cada reloj las horas que están escritas en palabras.

a) Son las nueve y media de la mañana:



b) Son las cinco de la tarde:



c) Son las ocho de la noche:



4. Resuelva los siguientes problemas:

a) Juan salió del colegio a las 3 de la tarde y se demoró media hora en llegar a su casa. ¿A qué hora llegó?

A las 3:30

b) Andrea dedica 1 hora en hacer natación y media hora en correr. ¿Cuánto tiempo dedica en hacer estas dos actividades?

Dedica una hora y media

c) Pedro dedica 2 horas en estudiar matemática y Alberto dedica 2 horas y media en estudiar lo mismo. ¿Quién dedica más tiempo a estudiar? ¿Por qué?

Alberto es el que dedica más tiempo, porque él hace media hora más.

d) Los alumnos de 1° Básico salieron a recreo a las 11:00 de la mañana, si el recreo dura media hora, ¿A qué hora deben volver a clases?

Los alumnos deben entrar a las 11:30 horas.

5. El siguiente folleto de cine, muestra los horarios en que se transmitirán las películas y su duración, según ello, responda:



CARTELERA DE CINE

PELÍCULA	HORA	DURACIÓN
"La Casa Roja"	10:00	1 hora
"Los 7 enanitos"	12:30	1 hora y media
"Princesita"	3:00	2 horas
"Autostart"	4:00	1 hora

a) ¿A qué hora termina la película "Los 7 enanitos"?

A las 2:00

b) ¿Cuál es la película que dura más?

La película que dura más es

"Princesita"

c) ¿Puede una persona ver primero la "Princesita" y luego "Autostart"?

No, porque la película "Princesita" dura dos horas saldría a las 5:00 y la otra película comienza a las 4:00.