


Actividades

1


Calcula mentalmente y completa:

$27 + 60 =$	$47 - 20 =$	$57 + 20 =$
$62 + 30 =$	$96 - 20 =$	$46 - 40 =$

2

	Diego tiene ahorrados \$68. Él ha ahorrado \$21 más que Pablo.	¿Cuánto dinero tiene ahorrado Pablo?
Pablo tiene ahorrado \$		

3

Diego tiene 58 bolitas. Él tiene 21 bolitas menos que Valentina.		¿Cuántas bolitas tiene Valentina?
Valentina tiene bolitas.		

4




En la panadería "Pan Pan" el kg de pan blanco cuesta \$10 menos que el kg de pan integral. El kg de pan blanco cuesta \$71.

¿Cuánto cuesta el kilogramo de pan integral?

El kilogramo de pan integral cuesta \$

5

En una competencia de tiro al blanco Andrea hizo 47 puntos. Ella hizo 11 puntos más que Nicolás.



¿Cuántos puntos hizo Nicolás?

Nicolás hizo puntos.