

PAUTA ACTIVIDADES: ADICIONES Y SUSTRACCIONES CON NÚMEROS MENORES A 100

1. Josefina fue a la frutería y está mirando qué puede comprar con su dinero.



a. Si elige comprar un kiwi y un plátano, ¿cuánto dinero gastará en ambas frutas?

Haz tu cálculo aquí

Observa cómo lo hace Josefina

$$\begin{array}{r}
 30 + 65 \\
 30 + 60 + 5 \\
 \hline
 90 + 5 \\
 \hline
 95
 \end{array}$$

b. ¿Qué diferencia tiene la estrategia que utilizó Josefina y la que usaste tú?

.....Pueden existir variadas respuestas.....

2. Resuelva las siguientes adiciones usando la estrategia de Josefina.

$$50 + 42$$

$$50 + 40 + 2$$

$$90 + 2$$

$$92$$

$$18 + 61$$

$$10 + 8 + 60 + 1$$

$$10 + 60 + 8 + 1$$

$$70 + 9$$

$$79$$

$$63 + 20$$

$$60 + 3 + 20$$

$$60 + 20 + 3$$

$$80 + 3$$

$$83$$

$$24 + 53$$

$$20 + 4 + 50 + 3$$

$$20 + 50 + 4 + 3$$

$$70 + 7$$

$$77$$

3. Los amigos de Josefina también quieren comprar algunas frutas. Observe y luego responda más abajo.



a. ¿Qué compró Daniel?una naranja y una pera.....

b. ¿Cuánto gastó en cada fruta?\$50 en la naranja y \$35 en la pera.....

c. Calcule cuánto gastó en total al comprar las dos frutas.

$$50 + 35$$

$$50 + 30 + 5$$

$$80 + 5$$

$$85$$


Gastó \$85 en total, al comprar las dos frutas.

Observe cómo puede hacerlo de otra manera.




$$\begin{array}{r} 50 \\ + 35 \\ \hline 85 \end{array}$$


4. Utilizando monedas indique cuánto pagó cada niño en sus compras:




Soy Lorena y compré una naranja y una manzana.



Soy Pedro y elegí un kiwi y una pera.







$$\begin{array}{r} 50 \\ + 45 \\ \hline 95 \end{array}$$



$$\begin{array}{r} 30 \\ + 35 \\ \hline 65 \end{array}$$



 $\begin{array}{r} 30 \\ + 50 \\ \hline 80 \end{array}$ 	 $\begin{array}{r} 45 \\ + 35 \\ \hline 80 \end{array}$ 
---	---

5. Resuelva las siguientes adiciones:

$$\begin{array}{r} 25 \\ + 32 \\ \hline 57 \end{array}$$

$$\begin{array}{r} 40 \\ + 24 \\ \hline 64 \end{array}$$

$$\begin{array}{r} 27 \\ + 52 \\ \hline 79 \end{array}$$

$$\begin{array}{r} 58 \\ + 21 \\ \hline 79 \end{array}$$

$$\begin{array}{r} 61 \\ + 14 \\ \hline 75 \end{array}$$

6. Pinte de un mismo color la adición y su resultado:

15 + 5	10 + 8	60 + 30	40	100	2 + 2
4	80 + 20	50 + 7	6 + 4	30	20
90	10 + 20	18	30 + 10	10	57



Elaborado por: Fundación AraucaníAprende

Texto e imágenes modificadas por: Ministerio de Educación de Chile