




nombre

curso


fecha

ACTIVIDADES: IGUALDADES Y DESIGUALDADES CON BALANZAS


Observa las siguientes cajas:

La caja **A** contiene
12 bolitasLa caja **B** contiene
8 bolitasLa caja **C** contiene
9 bolitas**1.** Dibuja las bolitas que faltan para que la balanza esté equilibrada.


a)



b)



c)



2. Complete con las palabras **mayor, menor o igual** según corresponda.

a) El número de bolitas de la caja A es _____ que el de la caja B.

b) El número de bolitas de la caja B es _____ que el de la caja C.

c) El número de bolitas de la caja C es _____ que el de la caja A.

d) Si a la caja B se le agregan 4 bolitas, entonces el número de bolitas es _____ que el de la caja A.