

nombre \_\_\_\_\_



curso \_\_\_\_\_

fecha \_\_\_\_\_


























### JUEGO: SÍMBOLOS CIFRADOS TRÁNSITO 2

En la siguiente figura las cifras han sido reemplazadas por símbolos. Cada símbolo representa siempre la misma cifra.

Los números que aparecen al costado de cada línea horizontal y debajo de cada línea vertical, han sido obtenidos por las ADICIONES (sumas) sucesivas de las cifras que componen cada línea.

Los símbolos que aparecen representan cifras del 1 al 5. Si  = 5 y  = 3, ¿puedes descubrir las cifras que esconden los demás símbolos?

	=	5		=	3		=	<input type="text"/>		=	<input type="text"/>
---	---	---	---	---	---	---	---	----------------------	---	---	----------------------

					=	13
					=	12
					=	12
					=	16
					=	14
<input type="text" value="20"/>	<input type="text" value="14"/>	<input type="text" value="13"/>	<input type="text" value="8"/>	<input type="text" value="12"/>		

Elaborado por: Ministerio de Educación, Chile