

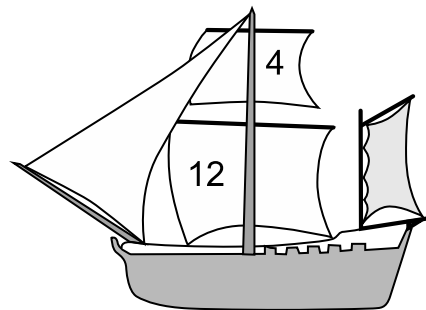



nombre _____

curso _____

fecha _____

JUEGO: PATRONES EN LAS VELAS

Observa con atención la relación que existe entre los números colocados sobre las velas de las dos primeras naves. Encuentra, en consecuencia, las cifras que corresponde colocar sobre las velas de la tercera y cuarta nave.



Elaborado por: Ministerio de Educación, Chile