

nombre

curso

fecha


























JUEGO: SÍMBOLOS CIFRADOS VIAJE 1

En la siguiente figura las cifras han sido reemplazadas por símbolos. Cada símbolo representa siempre la misma cifra.

Los números que aparecen al costado de cada línea horizontal y debajo de cada línea vertical, han sido obtenidos por sucesivas MULTIPLICACIONES de las cifras de cada línea.

Los símbolos representan cifras del 1 al 9. Si  = 6 y  = 4, ¿puedes encontrar las cifras que corresponden a los demás símbolos?

$$\begin{array}{|c|} \hline \text{fork and knife} \\ \hline \end{array} = \begin{array}{|c|} \hline 6 \\ \hline \end{array} \quad \begin{array}{|c|} \hline \text{bed} \\ \hline \end{array} = \begin{array}{|c|} \hline 4 \\ \hline \end{array} \quad \begin{array}{|c|} \hline \text{phone} \\ \hline \end{array} = \begin{array}{|c|} \hline \\ \hline \end{array} \quad \begin{array}{|c|} \hline \text{suitcase} \\ \hline \end{array} = \begin{array}{|c|} \hline \\ \hline \end{array}$$

| | | | | | | |
|---|---|---|---|---|---|------------------------------------|
|  |  |  |  |  | = | <input type="text" value="1.080"/> |
|  |  |  |  |  | = | <input type="text" value="1.440"/> |
|  |  |  |  |  | = | <input type="text" value="1.800"/> |
|  |  |  |  |  | = | <input type="text" value="2.880"/> |
|  |  |  |  |  | = | <input type="text" value="1.080"/> |
| | | | | | | |
| <input type="text" value="1.296"/> | <input type="text" value="2.400"/> | <input type="text" value="720"/> | <input type="text" value="3.600"/> | <input type="text" value="1.080"/> | | |

Elaborado por: Ministerio de Educación, Chile