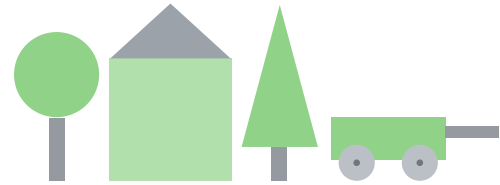


1

¿Qué formas geométricas puedes ver en las figuras siguientes?



2

¿Qué forma tiene la puerta de la sala de clases?
Dibuja una puerta en tu cuaderno.

3

¿Qué forma tienen las monedas?
Dibuja una moneda en tu cuaderno.

4

Busca las formas geométricas que aparecen en la figura.



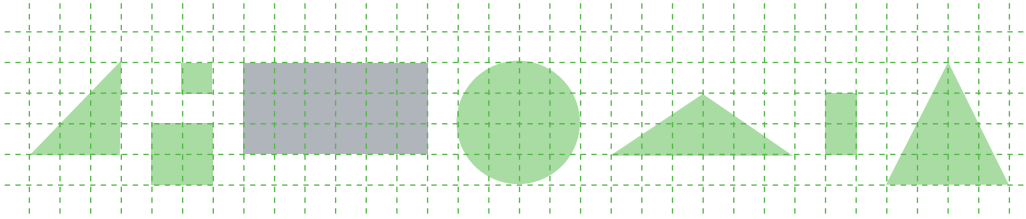
5

Busca las formas geométricas que aparecen en la figura.



6

Dibuja en tu cuaderno las figuras siguientes, utilizando los cuadraditos.




7

Dibuja en tu cuaderno una casita, utilizando algunas de las figuras que acabas de dibujar.

8

Dibuja la figura siguiente, usando las figuras que dibujaste en la Actividad 6.



9

Divide la figura en formas cuadradas, rectangulares, triangulares y circulares, y cópiala en tu cuaderno.

