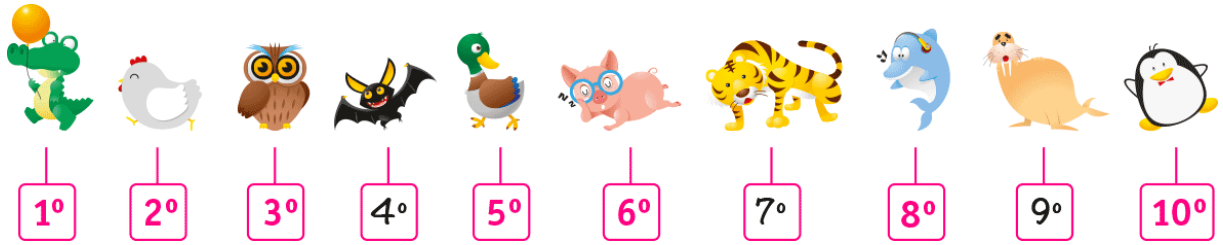


PAUTA ACTIVIDADES: NÚMEROS ORDINALES



1. Responda:

- a) El búho se encuentra en el.....**tercer**..... lugar.
- b) El pato se encuentra en el.....**quinto**..... lugar.
- c) El delfín se encuentra en el.....**octavo**..... lugar.
- d) El tigre se encuentra en el.....**séptimo**..... lugar.
- e) El pingüino se encuentra en el.....**décimo**..... lugar.
- f) El cocodrilo se encuentra en el.....**primer**..... lugar.
- g) El murciélago se encuentra en el.....**cuarto**..... lugar.

2. Consulte en su casa o a una persona cercana que posición obtuvo (1°primero, 2°segundo , 3°tercero ,4°cuarto,5° quinta, 6° sexto, 7°séptimo, 8° octavo, 9° noveno o 10°) por ejemplo: Complete:

- a) Colo - Colo en el último torneo de fútbol profesional de Chile salió_____
- b) Su curso en la última competencia deportiva que se hizo en el colegio salió_____

3. Indique la ubicación del cuadrado verde que se encuentra en la imagen contando de izquierda a derecha.



Rojo



Naranja



Verde



Azul



Amarillo

El cuadrado verde se encuentra en el **tercer lugar o 3°**


4. Observe los siguientes animales que están pegados en un mural de la sala, en una hilera: un perro, un gato, un pollo, un pato, un cerdo, un caballo, una oveja, una tortuga y una culebra. Identifican el lugar en que se encuentra cada uno de ellos al contar de izquierda a derecha.




Animales	Lugar en que se encuentra
Perro	1°
Culebra	9°
Pato	4°
Pollo	3°
Cerdo	5°
Gato	2°
Caballo	6°
Oveja	7°
Tortuga	8°

5. Dibuje en los círculos varias estrellas, cuya cantidad esté entre 3 y 10, ubíquelas de acuerdo a la posición que está indicada bajo cada uno de ellos.


Respuestas variadas por ejemplo:



2^{do} lugar



1^{er} lugar



3^{er} lugar