

nombre \_\_\_\_\_




curso \_\_\_\_\_






fecha \_\_\_\_\_


























**JUEGO: SIMBOLOGÍA DINOSAURIOS 2**

En la siguiente figura las cifras han sido reemplazadas por símbolos. Cada símbolo representa siempre la misma cifra.

Los números que aparecen al costado de cada línea horizontal y debajo de cada línea vertical, han sido obtenidos por las ADICIONES (sumas) sucesivas de las cifras que componen cada línea.

Los símbolos que aparecen representan cifras del 1 al 6. Si  = 1,  = 5 y  = 8, ¿puedes descubrir las cifras que esconden los demás símbolos?

 = 1    = 5    =      =      = 8

					→ <span style="border: 1px solid black; padding: 5px;">13</span>
					→ <span style="border: 1px solid black; padding: 5px;">26</span>
					→ <span style="border: 1px solid black; padding: 5px;">18</span>
					→ <span style="border: 1px solid black; padding: 5px;">15</span>
					→ <span style="border: 1px solid black; padding: 5px;">24</span>
↓	↓	↓	↓	↓	
<span style="border: 1px solid black; padding: 5px;">18</span>	<span style="border: 1px solid black; padding: 5px;">18</span>	<span style="border: 1px solid black; padding: 5px;">20</span>	<span style="border: 1px solid black; padding: 5px;">17</span>	<span style="border: 1px solid black; padding: 5px;">23</span>	