




Actividades Sugeridas

OBJETIVO DE APRENDIZAJE OA_25	DESCRIPCIÓN DE LA ACTIVIDADES
<p>Construir, leer e interpretar pictogramas y gráficos de barra simple con escala, de acuerdo a información recolectada o dada.</p> <p>RESOLVER PROBLEMAS Transferir los procedimientos utilizados en situaciones ya resueltas a problemas similares. (OA c)</p>	<p>6.</p> <p>Resuelven el siguiente problema:</p> <p>a La señora Mariza representa en el pictograma del dibujo las ventas de su negocio de septiembre a noviembre. ¿Cuántos símbolos debería ella dibujar en el mes de noviembre?</p> <p>Ventas de noviembre:</p> <ul style="list-style-type: none"> › 1era semana: 5 bicicletas › 2da semana: 7 bicicletas › 3era semana: 12 bicicletas › 4ta semana: 35 bicicleta <p>Bicicletas vendidas en un negocio</p> <hr/> <p>Septiembre </p> <hr/> <p>Octubre </p> <hr/> <p>Noviembre</p> <hr/> <p>Cada  = 5 bicicletas</p> <p>b Confeccionan un gráfico de barra a partir del pictograma anterior de las bicicletas</p>

Matemática

Tercero Año Básico

Unidad 3
OA_25