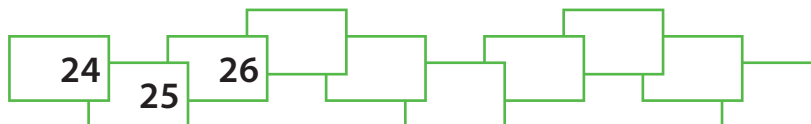


Actividades

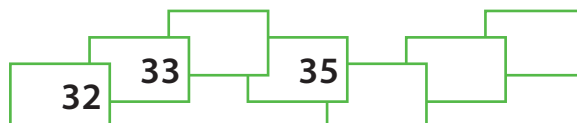
1

Anota los números que faltan en la secuencia siguiente.



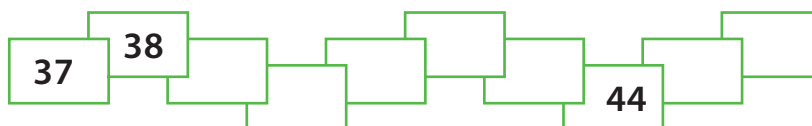
2

Anota los números que faltan en la secuencia siguiente.



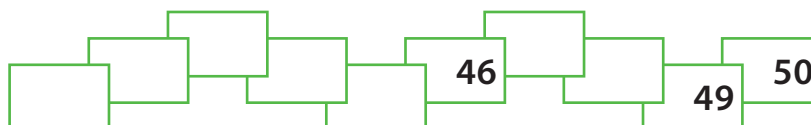
3

Anota los números que faltan en la secuencia siguiente.



4

Anota los números que faltan en la secuencia siguiente.



5

Calcula y completa:

$$10 + 7 = \dots\dots\dots$$

$$10 + 9 = \dots\dots\dots$$

$$10 + 8 = \dots\dots\dots$$

$$10 + 10 = \dots\dots\dots$$

6

Calcula y completa:

$20 + 5 = \dots\dots\dots$

$20 + 9 = \dots\dots\dots$

$20 + 7 = \dots\dots\dots$

$20 + 10 = \dots\dots\dots$

7

Calcula y completa:

$30 + 3 = \dots\dots\dots$

$30 + 9 = \dots\dots\dots$

$30 + 6 = \dots\dots\dots$

$30 + 10 = \dots\dots\dots$

8

Calcula y completa:

$40 + 2 = \dots\dots\dots$

$40 + 9 = \dots\dots\dots$

$40 + 5 = \dots\dots\dots$

$40 + 10 = \dots\dots\dots$

9

Calcula y completa.

Escribe los resultados anteriores en los cuadros.

$10 + 10 = \dots\dots\dots$

$20 + 10 = \dots\dots\dots$

$30 + 10 = \dots\dots\dots$

$40 + 10 = \dots\dots\dots$

