


Actividades

1


Calcula mentalmente y completa:

$400 + 7 =$	$407 - 7 =$	$407 - 400 =$
$72 + 10 =$	$58 + 40 =$	$29 + 30 =$

2

	<p>La mamá de Diego lo manda a comprar un kilogramo de arroz que cuesta \$940.</p> <p>En la caja él pide una caluga de leche que cuesta \$35.</p>	<p>¿Cuánto pagó?</p>
<p>Diego pagó \$</p>		

3

<p>Aproximadamente, la distancia entre Santiago y Los Vilos es de 220 kilómetros y la de Santiago a San Bernardo es de 19 kilómetros.</p> <p>¿Qué distancia, aproximadamente, recorre un bus que viaja desde San Bernardo hasta Los Vilos?</p>	
<p>El bus recorrerá km.</p>	

4



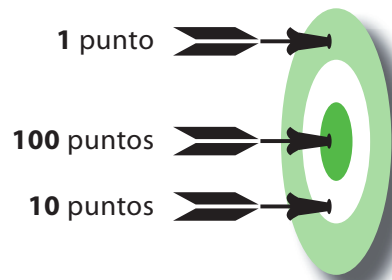
Para el 18 de septiembre la directora de la escuela compró 630 banderitas para adornar las salas. Como faltaron 54 banderitas, el Centro de Padres las regaló.

¿Cuántas banderitas se emplearon para adornar las salas?

Se emplearon banderitas.

5

Nicolás y Tiare juegan al tiro al blanco.



Los dardos de Tiare dejaron estas marcas:



Hice 540 puntos.

Tiare hizo puntos.

¿Cuántos puntos hicieron entre los dos?

Entre los dos hicieron puntos.

6

Calcula:

$430 + 67 =$	$520 + 38 =$	$710 + 79 =$
$840 + 51 =$	$850 + 29 =$	$960 + 37 =$