

Actividades

1

En la secuencia hay una regularidad. Encuentra mentalmente los números que van en los lugares vacíos y escríbelos:

786	776	766				726			
-----	-----	-----	--	--	--	-----	--	--	--

2

En cada una de las casas de Tiare, Andrea, Nicolás y Pablo, tienen un palto.

En la siguiente tabla registraron la producción de paltas de sus árboles:

Nombre	Cantidad de paltas
Tiare	726
Andrea	877
Nicolás	754
Pablo	843

¿De quién es el árbol que dio más paltas?




.....

¿De quién es el árbol que dio menos paltas?

.....

3

En el mundo se han construido famosas torres de gran altura.

			
Torre	Torre Eiffel (Francia)	Torre CN (Canadá)	Torre de Tokio
Altura	320 metros	553 metros	333 metros





¿Cuál torre es más alta?

.....

¿Cuál torre tiene menos altura?

.....

4

Animal marino	Peso en kg
 Elefante marino hembra	618
 Morsa	995
 Lobo marino	627
 Foca	143

¿Cuál animal pesa más?

.....

¿Cuál animal pesa menos?

.....

- Completa la tabla escribiendo los nombres de los animales ordenados de izquierda a derecha, desde el que pesa más al que pesa menos:

Animal				
Peso				

5

Se ha desarrollado tecnología para disponer de trenes que recorren grandes distancias en una hora (distancia/hora).

Tren	TGV (Francia)	Tren Bala (Japón)	Eurostar (Inglaterra-Francia)
Distancia/hora	350	300	335

- Completa la tabla escribiendo los nombres de los trenes ordenados de izquierda a derecha, desde el que recorre más al que recorre menos kilómetros en una hora:

Tren			
Distancia/hora			