

DÍA 44: SUMAR 0.

Los niños juegan a lanzar fichas dentro de un círculo.

Lanza 2 veces ambas fichas.

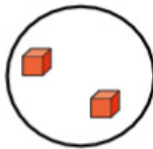


1. Observa los intentos de cada niño y completa las sumas.

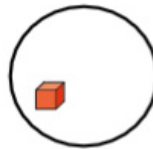


Hermana mayor

Intento 1



Intento 2

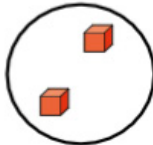


$$2 + 1 = \square$$

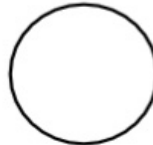


María

Intento 1



Intento 2




$$2 + \square = \square$$

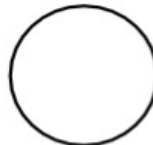


Hermano menor

Intento 1



Intento 2



$$\square + \square = \square$$

2. Resuelve.

a) $4 + 0 =$ b) $0 + 6 =$ c) $9 + 0 =$

d) $0 + 5 =$ e) $7 + 0 =$ f) $0 + 1 =$

g) $8 + 0 =$ h) $0 + 0 =$

Marca la alternativa correcta.

3. Observa las canastas.



¿Cuál frase numérica la representa?

a) $3 + 3 = 0$

b) $3 + 0 = 3$

c) $3 + 0 = 0$

4. ¿Cuál es el resultado de $4 + 0$?

a) 4

b) 0

c) 8