


DÍA 41: AGREGAR PARA SUMAR.

1. Observa la imagen y completa.



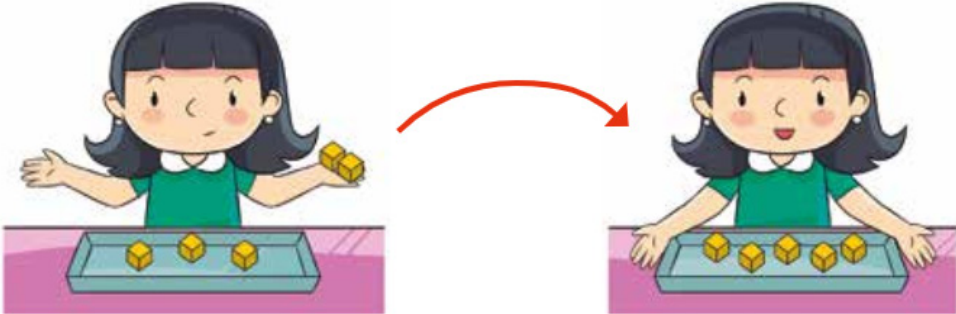
Mira la imagen y cuenta una historia.

Hay patos.

patos entran al agua.

En total hay patos.

2. Obseva la imagen y completa:

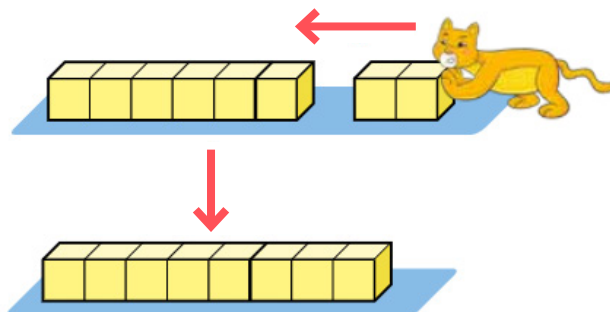
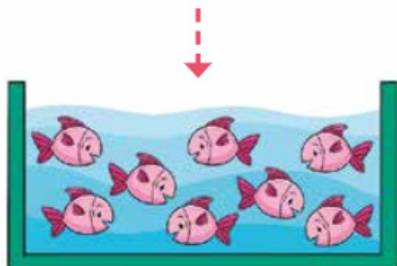



Hay cubos.

agregamos cubos.

En total hay cubos.

3. Suma los peces.



A 6  se le agregan 2.

Frase numérica: + = .

Respuesta: peces.

4. Sumemos.

a) $8 + 1 =$




b) $7 + 2 =$

c) $6 + 1 =$

d) $6 + 3 =$

Marca la respuesta correcta.

5. ¿Cuál es la representación de la siguiente situación?
A 5 cangrejos se le agregan 3.

- a)  5 crabs followed by 3 crabs, totaling 8 crabs.
- b)  5 crabs followed by 2 crabs, totaling 7 crabs.
- c)  6 crabs followed by 2 crabs, totaling 8 crabs.

6. ¿Cuál es la suma de $5 + 3$?

- a) 6
- b) 7
- c) 8