

Día 35 Número ordinales del 1° al 6°.

1. Observa la siguiente imagen.



2. Observa la siguiente imagen y responde.

a) ¿Cuántos niños esperan subir al carro?

b) ¿Cuántos asientos tiene el carro?

c) Encierra a la niña que está en primer lugar.



3. ¿En cuál de las imagen se indica la posición en la fila? Marca con una X.

Los primeros 4 niños



El cuarto niño



4. Pinta según se indica.



Los 2 primeros carros






El segundo carro



El cuarto carro



5. Marca el animal que está en el tercer piso.



Marca el piso en que está la jirafa.

- a) primero piso
- b) quinto piso
- c) cuarto piso

